

اسم ونمب المتعلم(ة) :

(1) أحسب ما يلي : (1,5ن)

$(6 \times 4)^2 = \dots\dots\dots$

$\left(\frac{5}{8}\right)^3 = \dots\dots\dots$

$(1,1)^2 = \dots\dots\dots$

3) Je complète : (1p)

2 h 10 min = minutes

6 min 45 s = secondes

4 j 2 min = h min

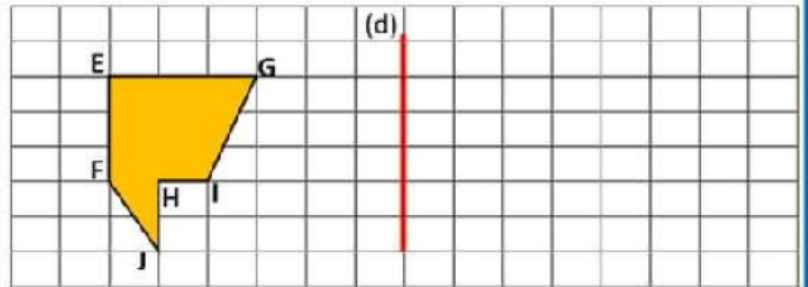

4 h = Secondes

(2) أضع وأنجز العمليات التالية ثم أقوم بالتحولات ان امكن ذلك: (2ن)

12h 34min - 7h 48min	14h 16min + 10h 25min

(5) أرسم دائرة قطرها $D = 4\text{cm}$. (1,5ن)

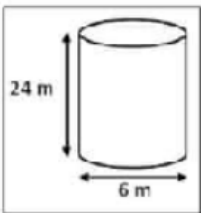
(4) أرسم ممائل الشكل EFJHIG بالنسبة لمحور التماثل (d). (1ن)



(6) أحسب المساحة الجانبية والمساحة الكلية للأسطوانة (الشكل جانبه):

أ- المساحة الجانبية للأسطوانة هي: (1,5ن)

ب- المساحة الكلية للأسطوانة هي: (1,5ن)



.....

.....

.....

.....

.....

.....